

Prénom :

Date :

À la maison (1)

Tracer des droites perpendiculaires
et parallèles




S'entraîner

Les travaux de Monsieur Charpentier

- a. Monsieur Charpentier a décidé d'équiper sa maison de façon que ses enfants ne courent aucun risque. Afin d'éviter les chutes dans l'escalier, il veut en premier lieu fabriquer une rampe. **Complète le dessin** en traçant deux droites parallèles pour représenter la rampe.



- b. Monsieur Charpentier veut aussi poser quatre étagères en hauteur pour son matériel de bricolage. **Complète son schéma** en traçant quatre droites perpendiculaires aux montants déjà dessinés.



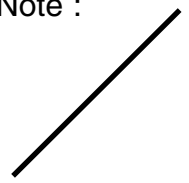
Prénom :

Date :

À la maison (1)

Tracer des droites perpendiculaires
et parallèles


Note :



Se corriger

Les travaux de Monsieur Charpentier

- a. Monsieur Charpentier a décidé d'équiper sa maison de façon que ses enfants ne courent aucun risque. Afin d'éviter les chutes dans l'escalier, il veut en premier lieu fabriquer une rampe. **Complète le dessin** en traçant deux droites parallèles pour représenter la rampe.



- b. Monsieur Charpentier veut aussi poser quatre étagères en hauteur pour son matériel de bricolage. **Complète son schéma** en traçant quatre droites perpendiculaires aux montants déjà dessinés.

