
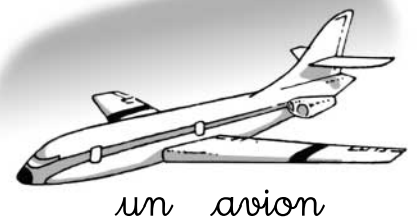




Découvrir

À chacun son véhicule




Suis les chemins pour relier chaque personnage à son moyen de transport puis **réponds aux questions**.

1. Qui roule en carrosse ? c'est _____.
2. Qui prend le train à vapeur ? c'est _____.
3. Qui prend l'avion ? c'est _____.




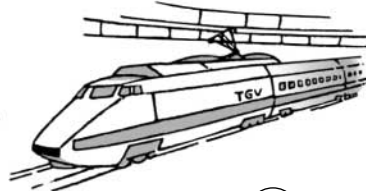

Aller plus loin

1 Numérote les vélos du plus ancien au plus récent.




2 Numérote les trains du plus ancien au plus récent.

Quel est celui qui va le plus vite ? c'est le n° _____



3 Numérote les avions du plus ancien au plus récent.

Quel est celui qui va le plus vite ? c'est le n° _____



4 Complète les phrases avec les mots : *chevaux, voitures, avion, train.*

Autrefois, les hommes utilisaient des _____

pour se déplacer, car il n'existait pas de _____.

Aujourd'hui, les hommes peuvent se déplacer très rapidement.

Ils peuvent prendre l'_____ ou le _____.

| Étudier l'évolution des transports