


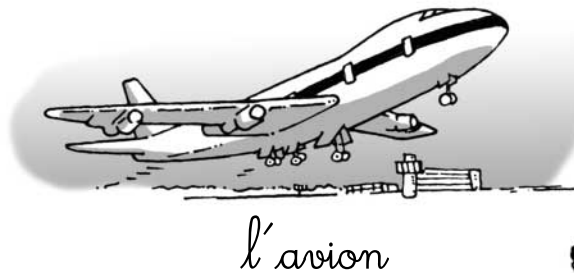


Découvrir

Plus vite, moins vite

Classe ces modes de transport du moins rapide au plus rapide.

1. _____.
2. _____.
3. _____.
4. _____.
5. _____.





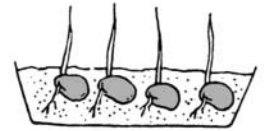
Aller plus loin

- 1** Martin, Paul et Anaïs ont dessiné leurs plantations lundi et samedi.

Martin

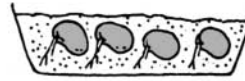


lundi




samedi

Paul



lundi



samedi

Anaïs



lundi



samedi

Réponds aux questions.

- Combien de temps s'est écoulé entre les deux dessins ? _____ jours.
- Quelle plante a poussé le plus vite ? celle de _____.
- Quelle plante a poussé le moins vite ? celle de _____.

- 2** Martin, Théo, Marie et Anaïs ont commencé leur exercice à 9 heures. Voici l'heure à laquelle chacun a terminé.



Martin



Théo



Marie



Anaïs

Écris les prénoms des enfants, du plus rapide au moins rapide.

1. _____

3. _____

2. _____

4. _____