
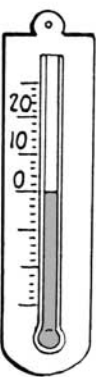
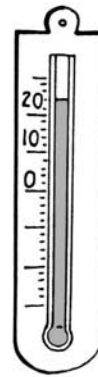
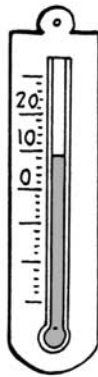





## Des instruments pour mesurer le temps qu'il fait

**a** Relie chaque thermomètre au symbole qui convient.

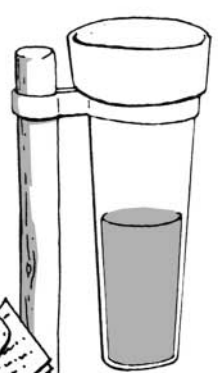
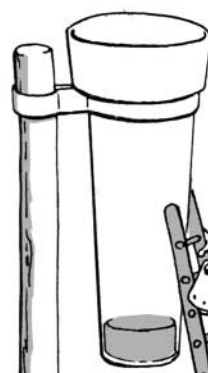
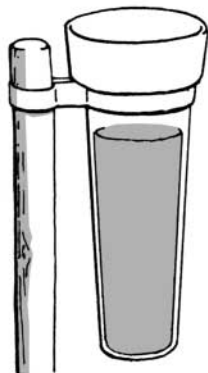
Découvrir



**b** Observe les pluviomètres et complète les phrases.

Le jour où il a plu le moins est \_\_\_\_\_.

Le jour où il a plu le plus est \_\_\_\_\_.



lundi

mardi

jeudi

vendredi




**C** Indique le sens du vent par une flèche puis dessine la fumée qui sort des cheminées.



S'entraîner

Observe chaque paysage et dessine, dans les cases, les symboles qui indiquent le temps.



| Observer et symboliser le temps qu'il fait (2)