













## En classe de neige

Découvrir

La maîtresse dispose pour ses élèves de bonnets rouges, verts, roses, jaunes, orange et noirs et d'après-skis bleus, blancs, noirs, marron et gris.

**Colorie-les puis dessine,** dans chaque case, les différentes tenues possibles.

+						
						
						
						
						
						






# Aller plus loin

**1** Observe la table puis continue à remplir les cases.

+	3	5	6	2	10
8	$8 + 3$				
4			$4 + 6$		
7		$7 + 5$			
9					$9 + 10$



**2** Observe la table puis continue à remplir les cases.

+	2	1	5	4	10
3	$3 + 2 = 5$				
1					$1 + 10 = 11$
2			$2 + 5 = 7$		
0				$0 + 4 = 4$	

**Construire une table d'addition**