



Découvrir

À la banque

Aline, Pierre et Jérémie ont vidé leurs tirelires. Ils vont à la banque pour échanger leur argent et obtenir ainsi le moins de pièces et de billets possible.



- a. Écris combien chacun possède d'argent.
- b. Dessine les billets et les pièces après l'échange.
- c. Complète le tableau.



Aline a \_\_\_\_\_ francs.

--

100	50	20	10	5	2	1



Pierre a \_\_\_\_\_ francs.

--

100	50	20	10	5	2	1



Jérémie a \_\_\_\_\_ francs.

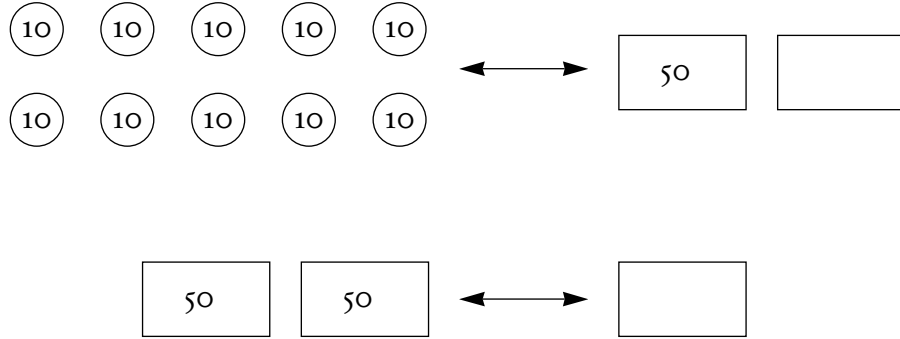
--

100	50	20	10	5	2	1



Retenir


■ Je peux faire des échanges avec la monnaie.




S'entraîner

1. Observe la situation et réponds à la question.

Sophie et Julie veulent acheter une peluche à 95 F.



Elle a \_\_\_\_\_ francs.



Elle a \_\_\_\_\_ francs.

Qui peut l'acheter ? \_\_\_\_\_

2. Trouve plusieurs façons de payer 84 francs.

Avec un billet et des pièces : \_\_\_\_\_ = \_\_\_\_\_

Avec des pièces : \_\_\_\_\_ = \_\_\_\_\_

3. Au supermarché, maman a acheté du fromage, de la viande et du poisson.

■ a. Calcule le prix de ses achats.

■ b. Dessine les billets et les pièces qu'elle utilise pour payer, sachant qu'elle veut en utiliser le moins possible.



Ticket de caisse	
Fromage	2 5
Viande	5 4
Poisson	1 6
Total	_____