




Les collectionneurs

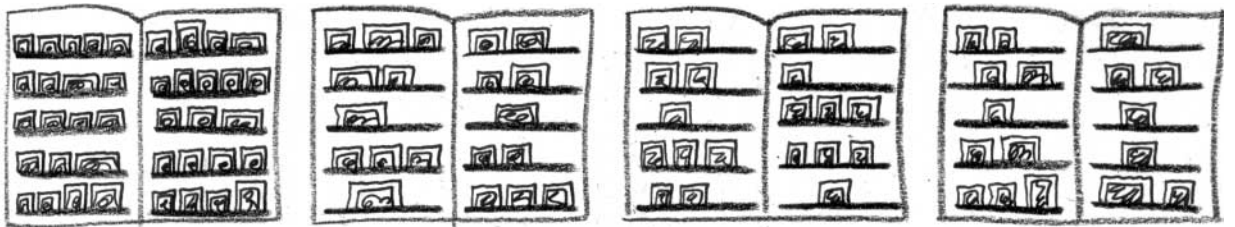
Noé, Natacha, Nicolas et Guillaume comparent leurs collections de timbres.

- a. Aide-les à compter combien ils en possèdent.


Découvrir




Noé possède : _____ = _____ timbres.



Natacha possède : _____ = _____ timbres.



Nicolas possède : _____ = _____ timbres.



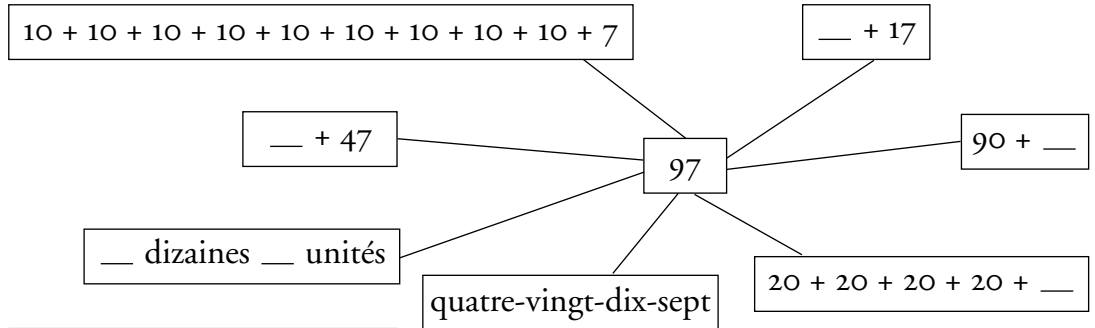
Guillaume possède : _____ = _____ timbres.

- b. Qui possède le plus de timbres ? _____



Retenir

■ Les nombres de 90 à 99



90	quatre-vingt-dix
91	quatre-vingt-onze
99	quatre-vingt-dix-neuf



S'entraîner

1. Complète le tableau.

quatre-vingt-onze	91	$90 + 1$
		$90 + 8$
	94	
quatre-vingt-dix-sept		
	90	
quatre-vingt trois		

2. Relie

- | | |
|------|-----------|
| 85 ● | ● 9 d 3 u |
| 96 ● | ● 8 d 5 u |
| 92 ● | ● 9 d 2 u |
| 69 ● | ● 6 d 9 u |
| 93 ● | ● 9 d 6 u |

3. Complète les égalités.

$80 + 6 = __$

$__ + 6 = 96$

$80 + 10 + __ = 92$

$80 + 14 = __$

$__ + 1 = 81$

$80 + __ = 95$

$90 + 3 = __$

$50 + __ = 97$

$98 = 40 + 40 + 10 + __$


$80 + 19 = __$

$45 + __ = 95$

$96 = 40 + 40 + __$

4. Dessine comment tu peux payer ces objets :

- a. en utilisant le moins de pièces possible.



- b. en utilisant un billet.

