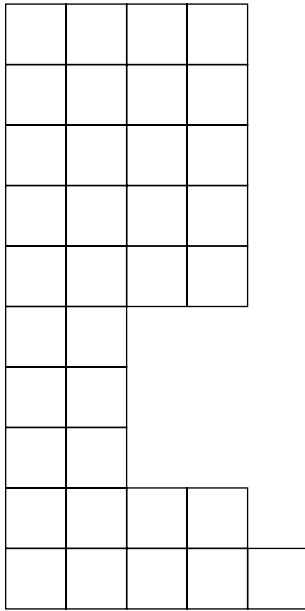




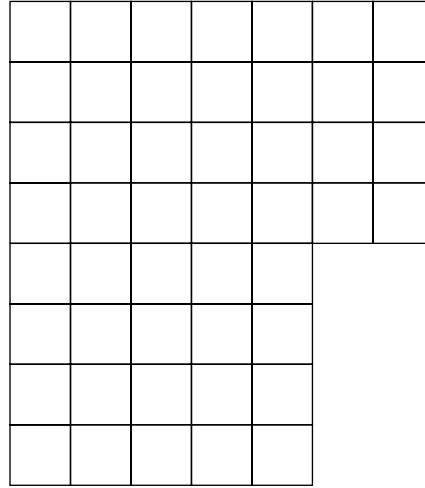
Quadrillages

- a. Écris combien il y a de carreaux dans chaque dessin.


Il y a ____ carreaux.



Il y a ____ carreaux.



Il y a ____ carreaux.



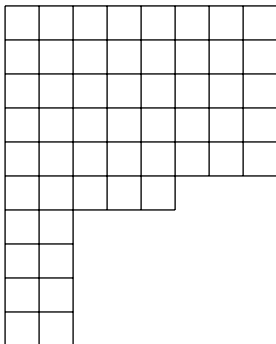
Découvrir



- b. Calcule le nombre de carreaux en complétant l'égalité.

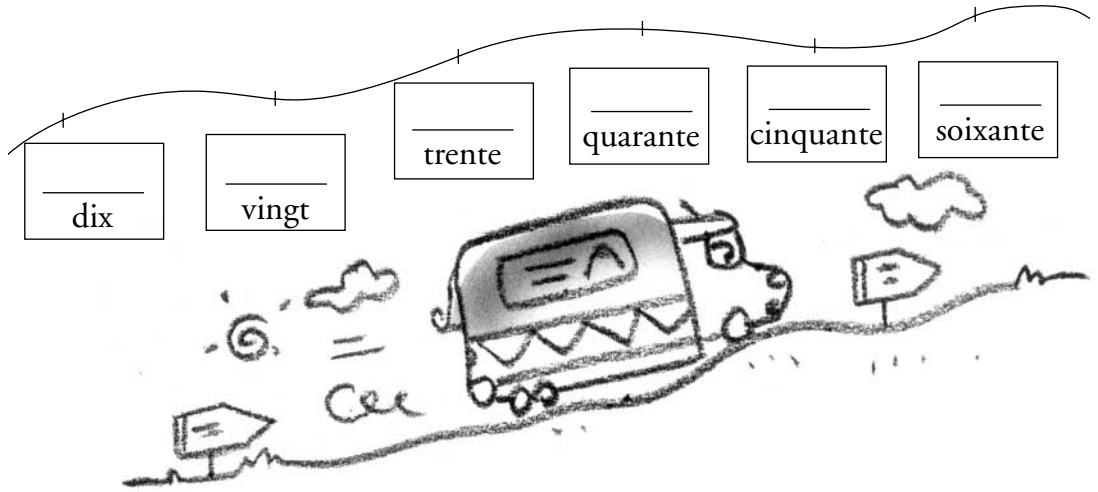
_____ = _____

Il y a ____ carreaux.





Retenir



S'entraîner

1. Colorie les pastilles selon la consigne donnée par le maître.



2. Relie chaque nombre à son écriture en lettres.

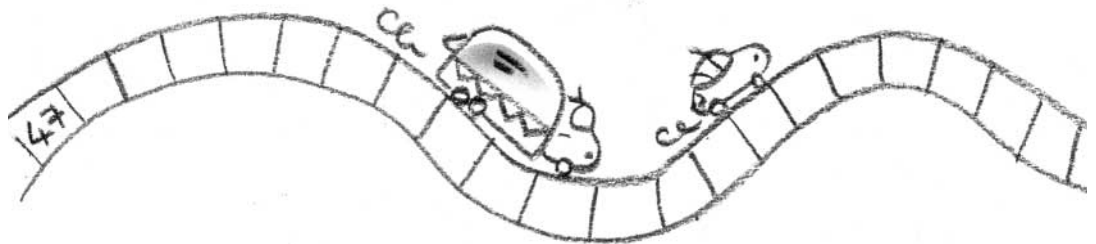
- | | |
|------|------------------|
| 36 ● | ● vingt-sept |
| 58 ● | ● cinquante-deux |
| 27 ● | ● trente-six |
| 25 ● | ● soixante-trois |
| 63 ● | ● quarante-neuf |
| 52 ● | ● vingt-cinq |
| 49 ● | ● cinquante-huit |

3. Complète le tableau en écrivant le nombre en chiffres ou en lettres.

38	
	vingt-neuf
	quarante-cinq
54	
67	
	trente-six

4. Continue les suites de nombres.

■ a. Écris les nombres qui viennent après 47.



■ b. Écris les nombres qui viennent avant 45.

