





Découvrir

Le mercredi de Lola

Lis, complète les cadrans et réponds aux questions.




Lola rentre avec sa maman dans le supermarché.

Elles sortent du magasin.



Il est 13 h 30, Lola part à la piscine.

Elle revient chez elle à 15 h.



Il est 16 h 10, Lola monte dans le bus pour aller au cinéma.

Elle descend du bus à 16 h 20.



La lumière s'éteint. Le film commence à 16 h 30.

Il est 17 h 40, Lola lit FIN sur l'écran.



Il est 19 h 50, Lola se couche et prend un livre.

Elle dit « bonne nuit » à sa maman et s'endort à 20 h 10.

- a. Combien de temps Lola et sa maman sont-elles restées au supermarché ?

- b. Combien de temps Lola a-t-elle été absente de la maison ?

- c. Quelle est la durée du trajet en bus ?

- d. Quelle est la durée du film ?


- e. Pendant combien de temps Lola a-t-elle lu ?






Retenir

■ La grande aiguille fait le tour du cadran en 1 heure. 1 heure = 60 minutes.



Il est 10 h.



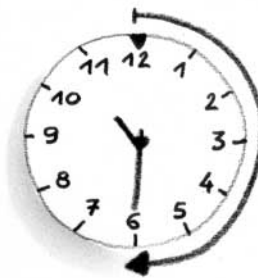
5 minutes plus tard,
il est 10 h 05.



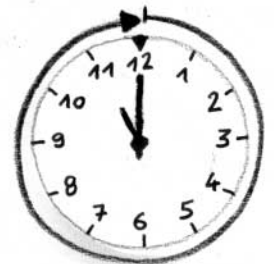
10 minutes plus tard,
il est 10 h 10.



Un quart d'heure plus
tard, il est 10 h 15.



Une demi-heure plus
tard, il est 10 h 30.




1 heure plus tard,
il est 11 h 00.



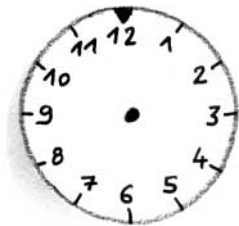
S'entraîner

1. Quelle heure est-il ?

- a. Mets une croix dans la bonne case ■ b. Dessine la position des aiguilles
une demi-heure plus tard.



- 6 heures et demie
 10 heures et demie
 6 heures et 10 minutes



2. Pierre a invité ses amis à son goûter d'anniversaire
Ils sont arrivés à 14 h. Quatre heures et demie
plus tard, ils sont partis.

À quelle heure ont-ils quitté Pierre ?

3. Le feuilleton a commencé à 10 h 15.

Il s'est terminé à 11 h

Combien de temps a-t-il duré ?

