




Découvrir

Les pesées de Zoé



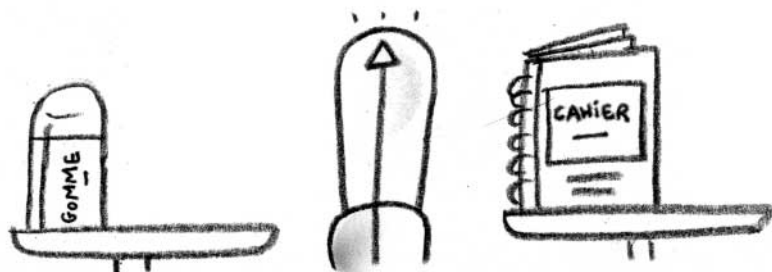
Pour peser sa trousse, son cahier, sa gomme et son livre, Zoé utilise des cubes de même masse.

- a. Écris les noms des objets, du plus léger au plus lourd.

- b. Dessine des cubes sur les balances.




- c. Ajoute des cubes sur l'un des plateaux, de façon que cet équilibre soit possible.







Retenir



La trousse est plus _____ que le livre.



Le cartable est plus _____ que le livre.




Les plateaux sont en _____.



S'entraîner

1. Complète avec les mots *léger* et *lourd*.




Théo

Rosa

Théo est plus _____ que Rosa.

Lucas est plus _____ que Rosa.


Théo est plus _____ que Lucas.



Rosa

Lucas

2. Entoure la bonne réponse.



Lucas

Théo

Théo est plus lourd que Lucas. Vrai Faux

Manon est aussi lourde que Lucas. Vrai Faux

Théo est plus léger que Manon. Vrai Faux



Lucas

Manon

3. Écris les noms des fruits dans l'ordre, du plus lourd au plus léger.

