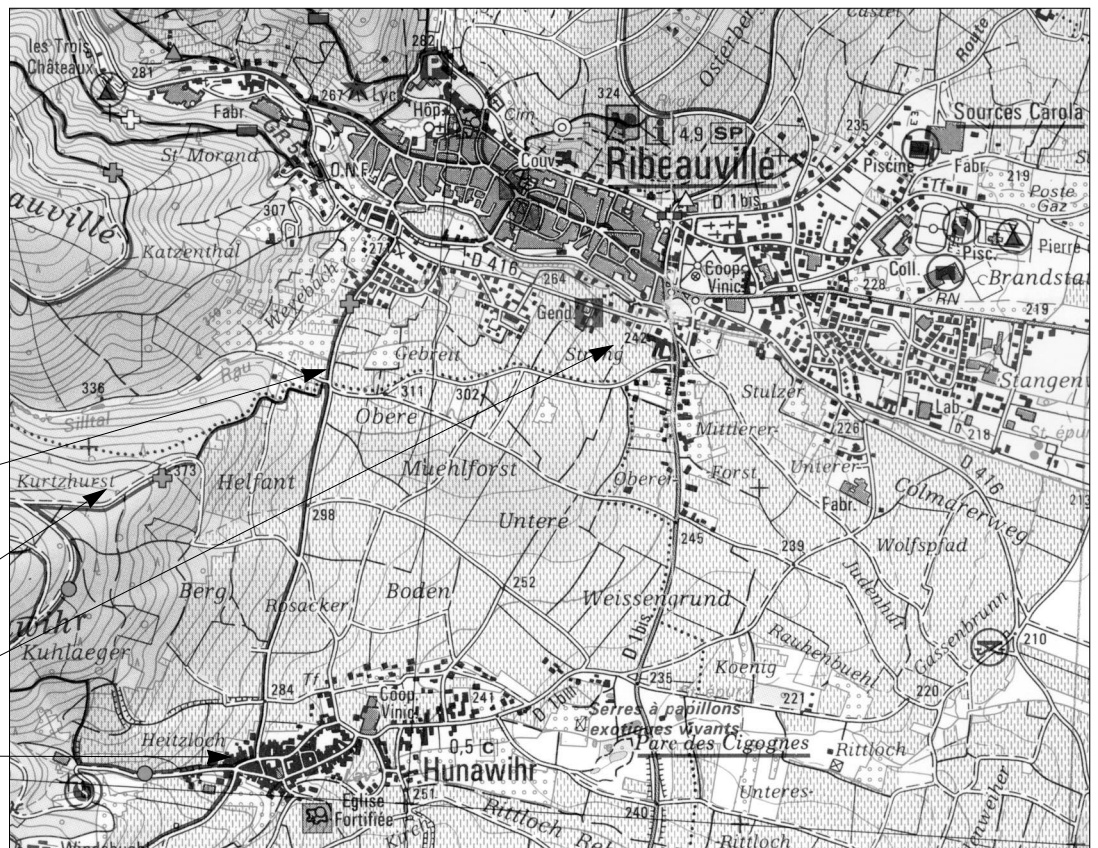




## Un jeu de cartes

Découvrir

**a** Observe la carte et complète la légende.



Carte IGN – Échelle 1 : 25 000 (1 cm pour 250 m)

①

**b** Entoure en rouge le village d'Hunawhir, en vert le bâtiment qui indique ce que l'on y cultive.

**c** Quel est le nom de la commune voisine? \_\_\_\_\_  
Est-elle plus ou moins importante qu'Hunawhir?  
\_\_\_\_\_

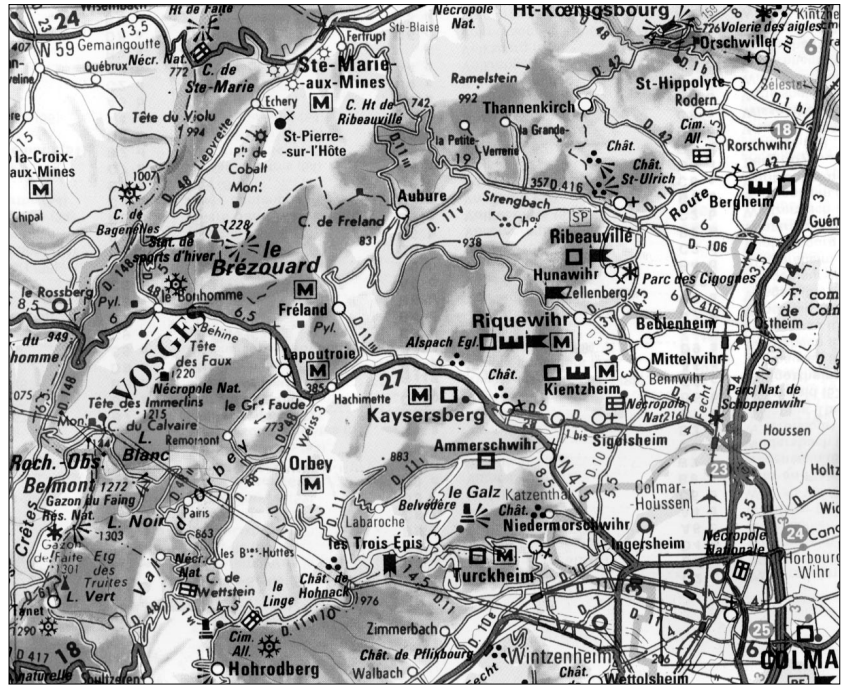
**d** Repasse en rouge la route qui relie Hunawhir à sa voisine.



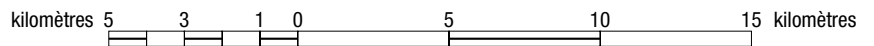
Aller plus loin

Observe cette nouvelle carte de la région puis répons aux questions.

- architecture civile
- fête traditionnelle
- musée
- point de vue
- remparts
- château
- curiosité
- église
- ruines



Carte IGN – Échelle 1 : 250 000 (1 cm = 2,5 km)



1. Entoure en rouge le village de Hunawhir.
2. Quelle est la carte la plus détaillée?  ①  ②
3. Quelle est la carte qui couvre le plus de terrain?  ①  ②
4. Les symboles de la carte ② sont-ils les mêmes que ceux de la carte ①? \_\_\_\_\_



Retenir

Complète le texte avec les mots : cotes – courbes – échelle – légende – petite.

- La \_\_\_\_\_ de la carte explique ce que représentent les différents symboles dessinés sur la carte. Pour bien lire une carte, il faut comprendre sa légende.
- Selon ce que l'on veut étudier, on choisira une carte ayant une \_\_\_\_\_ plus ou moins grande. On parle de grande échelle pour des cartes qui représentent des territoires limités et de \_\_\_\_\_ échelle pour des cartes qui représentent des territoires plus étendus.
- Une carte détaillée indique le relief du terrain, grâce aux \_\_\_\_\_ de niveau et aux \_\_\_\_\_ d'altitude qui précisent la hauteur au-dessus de la mer.

| Lire une carte