

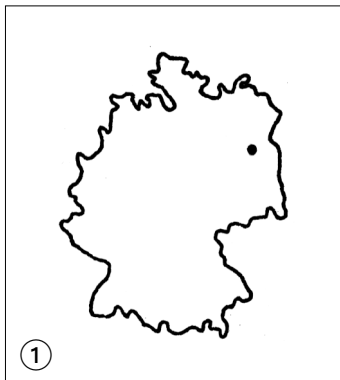


L'Hexagone et ses voisins

Découvrir

a Sur la carte de France, **trace à la règle** des traits marquant les limites du pays. Quelle figure géométrique obtiens-tu? _____

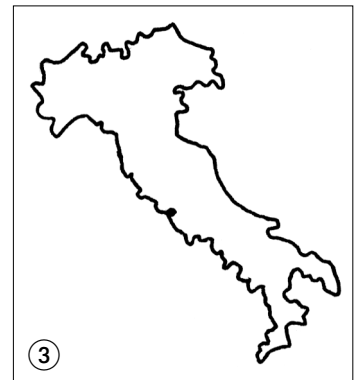
b Précise le nom de quatre des pays voisins de la France.



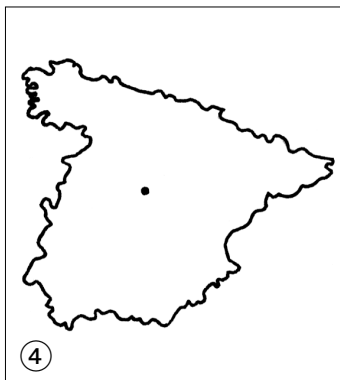
①



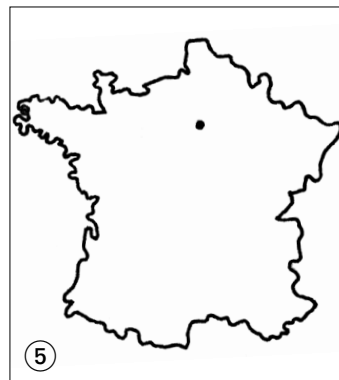
②



③



④



⑤

La France

c Écris le nom de chaque capitale sur les différentes cartes.

d L'un de ces pays n'est pas physiquement relié à la France. **Lequel?**



La France et l'Union européenne

Aller plus loin

a Attribue à chaque pays ce qui lui revient.

Allemagne	●	● le physicien Anders Celsius
Autriche	●	● le peintre Pablo Picasso
Belgique	●	● les premiers jeux Olympiques
Danemark	●	● les frères Grimm
Espagne	●	● le compositeur W. Amadeus Mozart
Finlande	●	● la bande dessinée
France	●	● la statue de la Petite Sirène
Grèce	●	● le plus haut sommet d'Europe
Irlande	●	● le plus grand port du monde
Italie	●	● le pays le plus au nord de l'UE
Luxembourg	●	● saint Patrick
Pays-Bas	●	● la plus petite superficie d'Europe
Portugal	●	● le plus haut volcan d'Europe
Royaume-Uni	●	● le navigateur Vasco de Gama
Suède	●	● le méridien de Greenwich

b Lis le texte puis réponds à la question.

Strasbourg partage avec New York et Genève le privilège d'être le siège d'organisations internationales sans être la capitale d'un pays.

Depuis 1979, Strasbourg est en effet le siège du Parlement européen, qui rassemble les 626 députés des quinze pays membres de l'Union européenne.

Comment pourrais-tu définir Strasbourg? _____



Retenir

Complète le texte.

■ La France est l'un des pays du continent _____. La Belgique, le _____, l'_____, la _____, l'_____ et l'Espagne sont ses voisins les plus proches.

■ La France est souvent représentée sous la forme d'un _____.

■ La France fait partie de l'Union européenne.

| Situer la France dans l'Europe