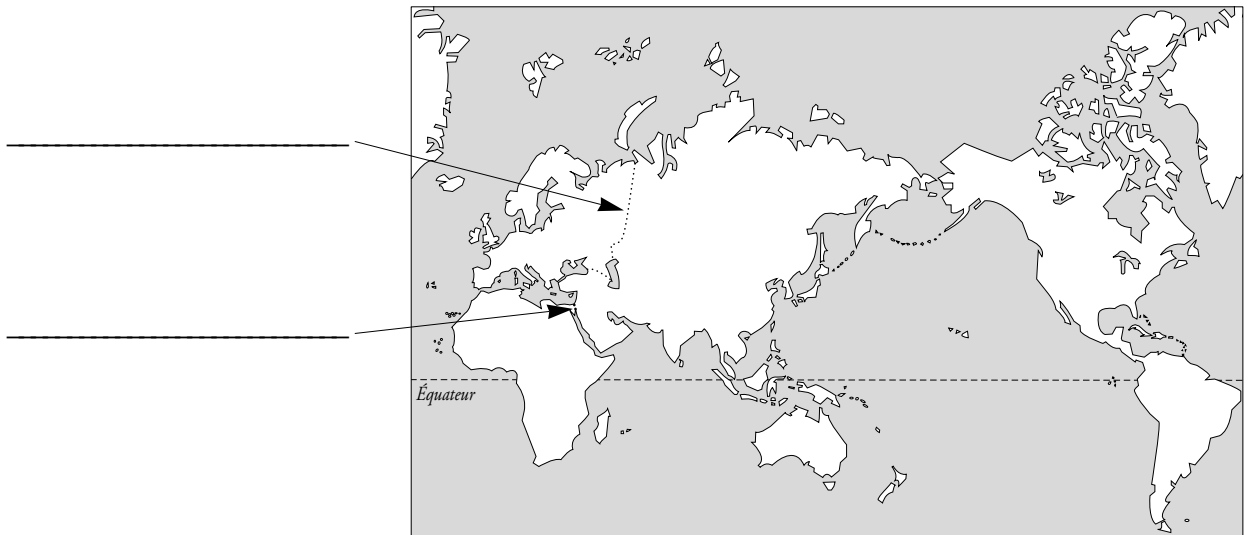




Découvrir

Deux continents « records »

- a** Sur le planisphère, **colorie l'Asie** en jaune et **l'Océanie** en violet. Écris le nom des deux éléments qui séparent l'Asie de l'Europe et de l'Afrique.



- b** Écris un court texte pour situer ces deux continents.

■ L'Asie _____

■ L'Océanie _____

- c** Relie chaque continent à l'expression qui le représente le mieux.

l'Asie ●

l'Océanie ●


- le continent le plus vaste
- le continent des mers du Sud
- le continent sauvage
- le continent des dragons
- le continent du bout du monde
- le continent des contrastes




La diversité des cultures et des modes de vie

Aller plus loin

a Observe les trois documents puis réponds à la question.



La Mecque



Le mur des Lamentations



Le Daibutsuden de Nara

De quoi s'agit-il? _____

b Lis le texte et résume en quelques phrases le problème soulevé.

D'un point de vue économique, l'Asie est dominée par le Japon, la deuxième puissance mondiale. L'exemple japonais a été suivi par les « quatre dragons » : Corée du Sud, Taiwan, Hong Kong et Singapour. Ils connaissent une croissance très élevée, tout comme la Chine ces dernières années.

La plupart des États asiatiques appartiennent au tiers monde. Leur pauvreté contraste avec la richesse de certains pays pétroliers du Moyen-Orient. Comme les monarchies pétrolières, de nombreux pays d'Asie ont encore une organisation sociale très inégalitaire.

D'après *Zoom*, Hachette Jeunesse, 1998.



Retenir

Complète le texte avec les mots : *Arctique – Australie – élevé – îles – Indien – Océanie – Oural – Pacifique – peuplé – vaste.*

■ L'Asie est le plus _____ et le plus _____ des continents. C'est aussi le plus _____ (présence du plus important ensemble montagneux). Trois océans le délimitent : l'océan _____ au nord, l'océan _____ au sud et l'océan _____ à l'est. L' _____ et l'isthme de Suez séparent l'Asie de l'Europe et de l'Afrique.

■ Au sud de l'Asie, quelque dix mille petites _____ constituent le plus petit des continents : _____. L' _____ est cependant la plus grande île du monde.

| Situer et caractériser l'Asie et l'Océanie